



Имя и фамилия участника

Тур 2

Классика

10:55 – 11:35
(40 минут)

МОРСКОЙ БОЙ	165
ОБЛАКА	110
ПАЛАТКИ	20
СУДОКУ	80
ПЕНТАМИНО	210
ЦИФРОГРАММА	65

Оценка
(Max 650)

МОРСКОЙ БОЙ

165 баллов

Разместите в белых клетках приведённую флотилию. Корабли не должны касаться даже углами. Число вне поля указывает на количество клеток, занятых кораблями в соответствующем ряду.

	3		1		1	2	3	4	3	2	1	
												2
												0
												1
												2
												2
												0
												2
												0
												0

ОБЛАКА

110 баллов

Разместите в белых клетках прямоугольники (облака), не касающиеся друг друга даже углом. Число вне поля показывает количество занятых облаками клеток.


Длины сторон
прямоугольников –
не менее 2.

	4	4	2	2	6	6	6	4	2	6	4	4	
													8
													8
													2
													7
													5
													3
													7

ПАЛАТКИ

20 баллов

У каждого дерева нарисуйте палатку – в одной из соседних с ним клеток. Число вне поля показывает количество палаток в соответствующем ряду. Две палатки не могут оказаться в соседних по стороне и углу клетках.



СУДОКУ

80 баллов

Заполните поле цифрами от 1 до 9 так, чтобы в каждой строке, в каждом столбце и в каждом выделенном квадрате 3 x 3 все они встретились по разу.

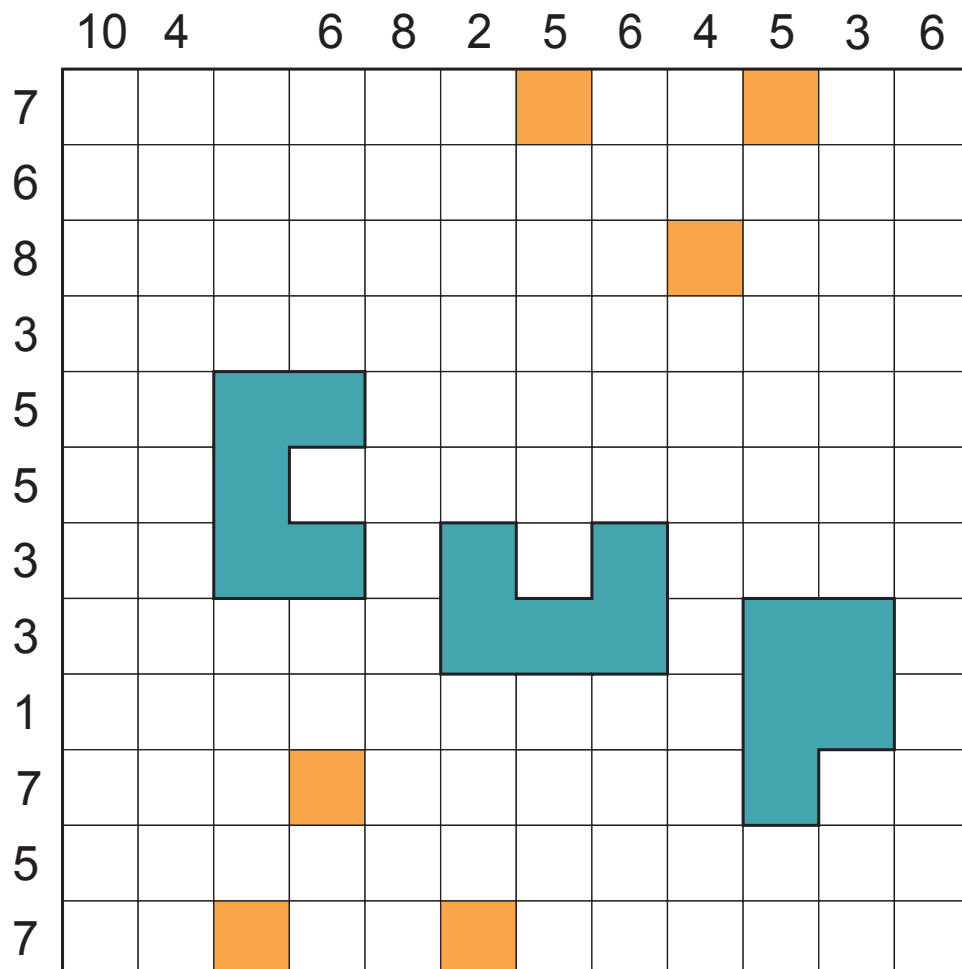
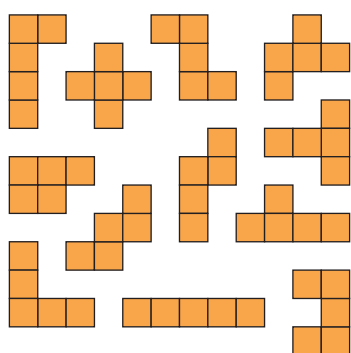
		4		1	7	5	8	
	8	5		6				
		2		7				
		1		3	5	4	6	
		7		4			1	
		9		8			7	
		6		5	1	2	3	

ПЕНТАМИНО

210 баллов

Все оранжевые пентамино разместите в белых клетках поля так, чтобы фигуры не касались друг друга даже углами. Их можно вращать и зеркально отражать. Число вне поля указывает на количество оранжевых клеток в соответствующем ряду.

Некоторые оранжевые фрагменты даны.



ЦИФРОГРАММА

65 баллов

Впишите в белые клетки цифры от 1 до 7, чтобы в каждой строке и каждом столбце они не повторялись. Вне поля показаны суммы цифр в столбцах.

				4		5
					6	
	6				3	
1		2	7			
16			20	12	20	20